

Platzhalter

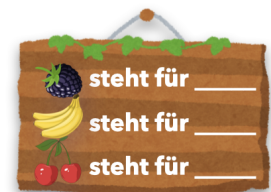
Aufgabe 1 Ergänze die Lücken.

a)

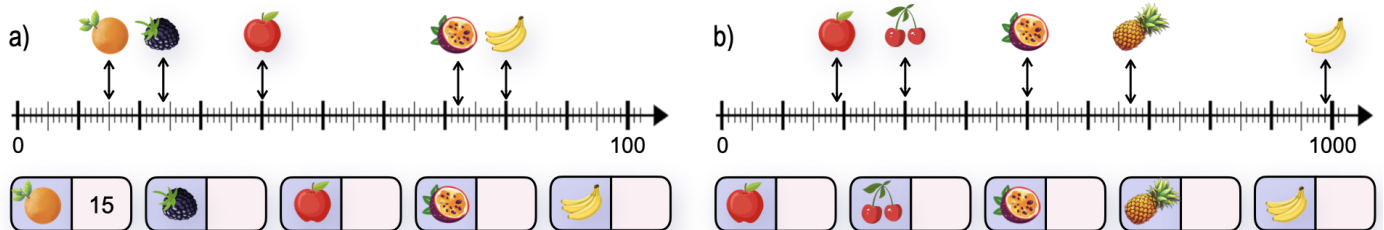
b)

Aufgabe 2 Ergänze die Lücken in der Tabelle.

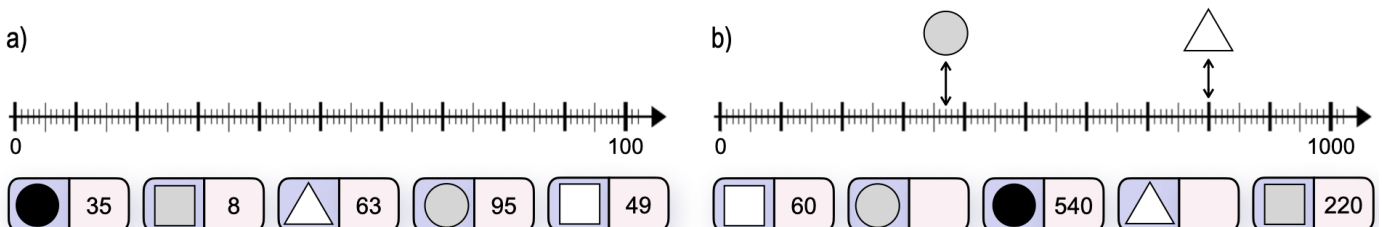
| der Obstkorb | die Stellenwerttafel | | | die Zahl |
|--------------|----------------------|---|---|----------|
| | H | Z | E | 153 |
| | H | Z | E | |
| | H | Z | E | |
| | H | Z | E | 321 |



Aufgabe 3 Ordne die Bilder den richtigen Zahlen zu.



Aufgabe 4 Markiere wie in Aufgabe 3, wo sich die Figuren auf dem Zahlenstrahl befinden.





Platzhalter - Lösungsblatt

✓ **Lösung 1** Ergänze die Lücken.

a)

| | | |
|--|--|--|
| | | |
| | | |
| | | |

b)

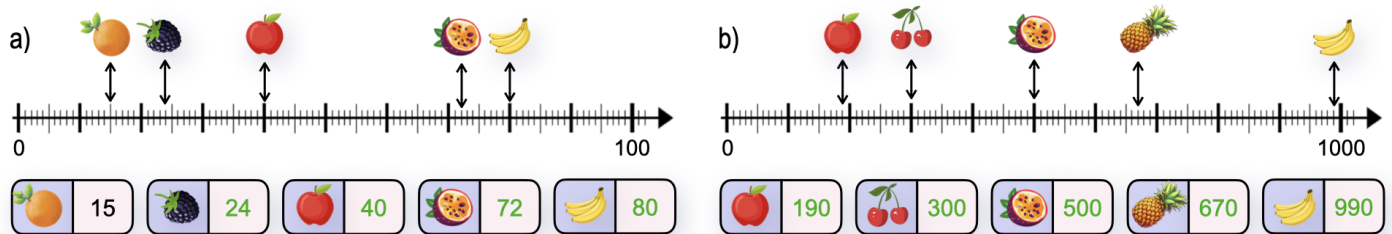
| | | | |
|--|--|--|--|
| | | | |
| | | | |
| | | | |
| | | | |

✓ **Lösung 2** Ergänze die Lücken in der Tabelle.

| der Obstkorb | die Stellenwerttafel | | | die Zahl |
|--------------|----------------------|---|---|----------|
| | H | Z | E | 153 |
| | 1 | 5 | 3 | |
| | H | Z | E | 234 |
| | 2 | 4 | 3 | |
| | H | Z | E | 308 |
| | 3 | 0 | 8 | |
| | H | Z | E | 321 |
| | 3 | 2 | 1 | |



✓ **Lösung 3** Ordne die Bilder den richtigen Zahlen zu.



✓ **Lösung 4** Markiere wie in Aufgabe 3, wo sich die Figuren auf dem Zahlenstrahl befinden.

