


Obst


Aufgabe 1

Welche Obstkörbe gehören zusammen? Kreise ein!




Aufgabe 2 Wer hat mehr Obst im Korb? Kreise ein!

a)



b)




Aufgabe 3

- a) In Toms Obstkorb liegen Äpfel und Bananen.
Insgesamt sind es 10 Früchte.
Es gibt genau 2 Äpfel mehr als Bananen.
Zeichne Toms Obstkorb.

- b) Mia hat in ihrem Obstkorb insgesamt 15 Früchte.
Im Obstkorb befinden sich 3 Kirschen und doppelt so
viele Bananen wie Äpfel.
Zeichne Mias Obstkorb.



Obst - Lösungsblatt

Lösung 1




Lösung 2

a)



Tom hat insgesamt 19 Äpfel.
Luisa hat 20 Äpfel.
Also hat Luisa 1 Apfel mehr
als Tom.

b)




Mika hat insgesamt 16 Bananen.
Leo hat 18 Bananen.
Also hat Leo 2 Bananen mehr
als Mika.

Lösung 3

a)

Toms Obstkorb:



b)

Mias Obstkorb:

