


Obst


Aufgabe 1

Welche Obstkörbe gehören zusammen? Kreise ein!




Aufgabe 2 Wer hat mehr Obst im Korb? Kreise ein!

a)



b)



Aufgabe 3

a) In Toms Obstkorb liegen Äpfel und Bananen.

Insgesamt sind es 20 Früchte.

Es gibt genau 2 Äpfel mehr als Bananen.

Zeichne Toms Obstkorb.

b) Mia hat in ihrem Obstkorb insgesamt 15 Früchte.


Im Obstkorb liegen doppelt so viele Bananen wie Äpfel.

Außerdem ist die Anzahl der Kirschen um Eins kleiner als die Anzahl der Äpfel.

Zeichne Mias Obstkorb.



Obst - Lösungsblatt

Lösung 1




Lösung 2

a)



Tom hat insgesamt 33 Äpfel.
Luisa hat 31 Äpfel.
Also hat Tom 2 Äpfel mehr
als Luisa.

b)

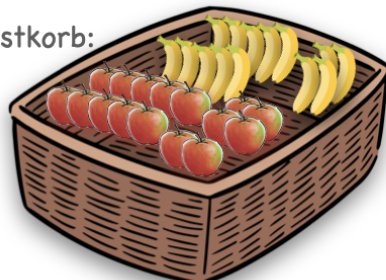


Mika hat insgesamt 21 Bananen.
Leo hat 23 Bananen.
Also hat Leo 2 Bananen mehr
als Mika.

Lösung 3

a)

Toms Obstkorb:



b)

Mias Obstkorb:

