







Uhrzeiten


Aufgabe 1 Trage die fehlenden Uhrzeiten ein.

					
<input type="text"/>	06 : 30	<input type="text"/>	<input type="text"/>	01 : 15	<input type="text"/>
<input type="text"/>	<input type="text"/>	15 : 30	<input type="text"/>	<input type="text"/>	22 : 45


Aufgabe 2 Trage die fehlenden Uhrzeiten ein.

<input type="text"/>	Es ist 7 Uhr morgens.	14:45
<input type="text"/>	Es ist viertel nach 12 mittags.	04:00
<input type="text"/>	Es ist halb 10 abends.	19:45


Aufgabe 3 Die Bilder zeigen, was du freitags machst. Trage die passenden Uhrzeiten ein.



Ich stehe auf.



Ich gehe los zur Schule.









Der Unterricht beginnt.



Die Schule ist zu Ende.

Uhrzeiten - Lösungsblatt

Lösung 1

					
08:00	06 : 30	03:30	06:45	01 : 15	10:45
20:00	18:30	15 : 30	18:45	13:15	22 : 45

Lösung 2

07:00	Es ist 7 Uhr morgens.	14:45	Es ist viertel vor 3 nachmittags.
12:15	Es ist viertel nach 12 mittags.	04:00	Es ist 4 Uhr nachts.
21:30	Es ist halb 10 abends.	19:45	Es ist viertel vor 8 abends.

Lösung 3

Individuelle Lösungen