







Uhrzeiten


Aufgabe 1 Trage die fehlenden Uhrzeiten ein.

					
<input type="text"/>	06 : 30	<input type="text"/>	<input type="text"/>	02 : 15	<input type="text"/>
<input type="text"/>	<input type="text"/>	15 : 15	<input type="text"/>	<input type="text"/>	21 : 45


Aufgabe 2 Trage die fehlenden Uhrzeiten ein.

<input type="text"/>	Es ist 11 Uhr vormittags.	01:00
<input type="text"/>	Es ist halb 12 nachts.	22:15
<input type="text"/>	Es ist viertel vor 5 abends.	15:30


Aufgabe 3 Die Bilder zeigen, was du freitags machst. Trage die passenden Uhrzeiten ein.



Ich stehe auf.



Ich gehe los zur Schule.









Der Unterricht beginnt.



Die Schule ist zu Ende.

Uhrzeiten - Lösungsblatt

Lösung 1

					
04:00	06 : 30	03:15	07:45	02 : 15	09:45
16:00	18:30	15 : 15	19:45	14:15	21 : 45

Lösung 2

11:00	Es ist 11 Uhr vormittags.	01:00	Es ist 1 Uhr nachts.
23:30	Es ist halb 12 nachts.	22:15	Es ist viertel nach 10 abends.
16:45	Es ist viertel vor 5 abends.	15:30	Es ist halb 4 nachmittags.

Lösung 3

Individuelle Lösungen