


## Zeitspannen


**Aufgabe 1** Die Bilder zeigen, was du am Freitag nachmittags machst. Trage die passenden Uhrzeiten und die Dauer der Aktivitäten ein.



\_\_\_ Stunden und  
\_\_\_ Minuten



\_\_\_ Stunden und  
\_\_\_ Minuten



\_\_\_ Stunden und  
\_\_\_ Minuten



Ich esse Mittag.

**Aufgabe 2** Setze die Begriffe in den Text ein.

Luisa und ihr Vater starten um \_\_\_\_\_ ihre Wanderung zur \_\_\_\_\_. Sie haben viel \_\_\_\_\_ dabei, deshalb wiegt der Rucksack \_\_\_\_\_. Vom Parkplatz bis zum Rastplatz sind es \_\_\_\_\_. Dort kommen sie um \_\_\_\_\_ an und machen \_\_\_\_\_ Pause. Zur Hütte ist es dann noch einmal \_\_\_\_\_. Weil bei der Hütte ein Spielplatz ist, dauert die \_\_\_\_\_ fast \_\_\_\_\_ wie die erste. Um \_\_\_\_\_ sind sie wieder zurück.

genauso  
weit

3 km

Sonnenhütte

6 kg

doppelt  
so lange

17:30 Uhr

8:30 Uhr

Verpflegung


30 min

10:10 Uhr

2. Pause

**Aufgabe 3** Bestimme Zeitspannen und Zeitpunkt. Benutze dazu die Informationen aus dem Text aus Aufgabe 2.

a) Wie viele Stunden (h) und Minuten (min) sind es zum Rastplatz?

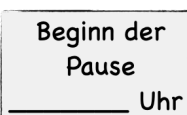


+ \_\_\_ h \_\_\_ min

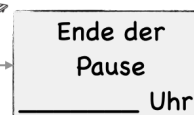


Antwort: Zum Rastplatz sind es \_\_\_\_\_.

b) Wann ist die Pause zu Ende?



+ \_\_\_ min

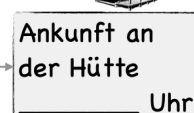


Antwort: Die Pause ist um \_\_\_\_\_ Uhr zu Ende.

c) Wann kommen sie an der Hütte an?



+ \_\_\_ min



Antwort: Sie kommen um \_\_\_\_\_ Uhr an der Hütte an.

## Zeitspannen - Lösungsblatt

### Lösung 1

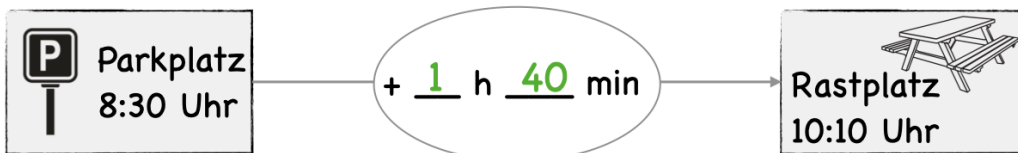
#### Individuelle Lösungen

### Lösung 2

Luisa und ihr Vater starten um **8:30 Uhr** ihre Wanderung zur **Sonnenhütte**. Sie haben viel **Verpflegung** dabei, deshalb wiegt der Rucksack **6 kg**. Vom Parkplatz bis zum Rastplatz sind es **3 km**. Dort kommen sie um **10:10 Uhr** an und machen **30 min** Pause. Zur Hütte ist es dann noch einmal **genauso weit**. Weil bei der Hütte ein Spielplatz ist, dauert die **2. Pause** fast **doppelt so lange** wie die erste. Um **17:30 Uhr** sind sie wieder zurück.

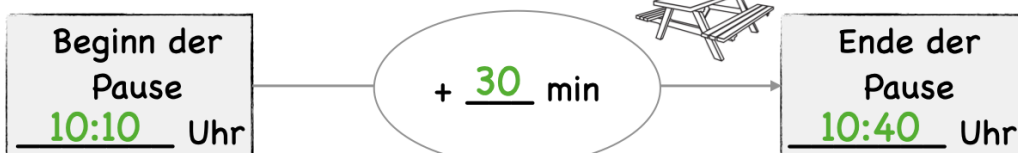
### Lösung 3

a) Wie viele Stunden (h) und Minuten (min) sind es zum Rastplatz?



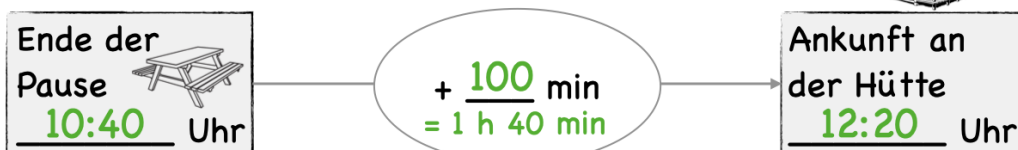
Antwort: Zum Rastplatz sind es 1 Stunde und 40 Minuten.

b) Wann ist die Pause zu Ende?



Antwort: Die Pause ist um 10:40 Uhr zu Ende.

c) Wann kommen sie an der Hütte an?



Antwort: Sie kommen um 12:20 Uhr an der Hütte an.