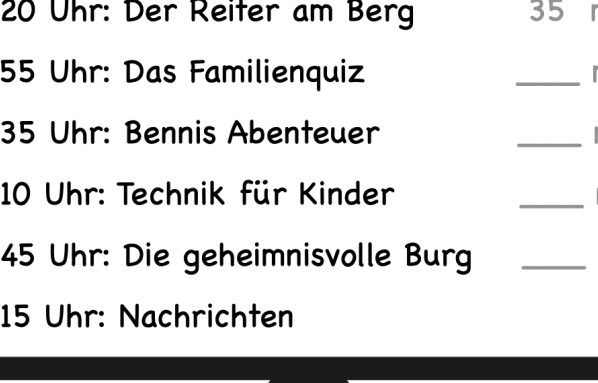





## ✔ Zeitspannen

👉 **Aufgabe 1** Wie lange dauert jede Fernsehsendung? Trage ein!



16:20 Uhr: Der Reiter am Berg	35 min
16:55 Uhr: Das Familienquiz	___ min
17:35 Uhr: Bennis Abenteuer	___ min
18:10 Uhr: Technik für Kinder	___ min
18:45 Uhr: Die geheimnisvolle Burg	___ min
19:15 Uhr: Nachrichten	

👉 **Aufgabe 2** Beantworte die Fragen.

	Welche Sendung läuft gerade?	Vor wie vielen Minuten hat diese Sendung angefangen?	Wie lange dauert sie noch?
			
			
			


### ✓ Aufgabe 3

- a) Es ist 16:30 Uhr. Wie lange dauert es noch, bis die Sendung „Bennis Abenteuer“ beginnt?

Antwort: Es dauert noch \_\_\_\_\_

- b) Jan ist bei seinem Freund und muss um 17:30 Uhr zu Hause sein. Für den Heimweg braucht er 20 Minuten. Wie lange kann er sich mit seinem Freund das Familienquiz ansehen?

Antwort: Jan kann das Quiz \_\_\_\_\_ ansehen.






## Zeitspannen - Lösungsblatt

### Lösung 1

16:20 Uhr: Der Reiter am Berg	35 min
16:55 Uhr: Das Familienquiz	<u>40</u> min
17:35 Uhr: Bennis Abenteuer	<u>35</u> min
18:10 Uhr: Technik für Kinder	<u>35</u> min
18:45 Uhr: Die geheimnisvolle Burg	<u>30</u> min
19:15 Uhr: Nachrichten	

### Lösung 2

	Welche Sendung läuft gerade?	Vor wie vielen Minuten hat diese Sendung angefangen?	Wie lange dauert sie noch?
	Das Familienquiz	15 min	25 min
	Bennis Abenteuer	10 min	25 min
	Technik für Kinder	29 min	6 min

### Lösung 3

a) Es ist 16:30 Uhr. Wie lange dauert es noch, bis die Sendung „Bennis Abenteuer“ beginnt?

Antwort: Es dauert noch 1 Stunde und 5 Minuten.

b) Jan ist bei seinem Freund und muss um 17:30 Uhr zu Hause sein. Für den Heimweg braucht er 20 Minuten. Wie lange kann er sich mit seinem Freund das Familienquiz ansehen?

Antwort: Jan kann das Quiz 15 min ansehen.

