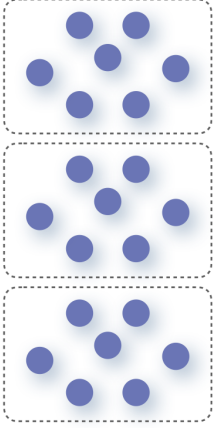


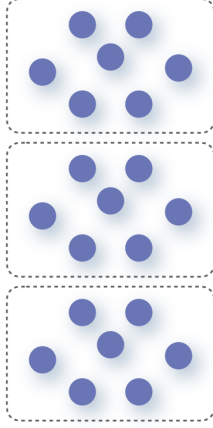
 Mengen

🟡 **Aufgabe 1** Zerlege in Teile. Finde jeweils 3 Möglichkeiten.

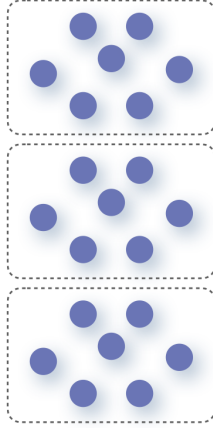
2 Teile:



3 Teile:




4 Teile:



👉 **Aufgabe 2** Arbeitet zu zweit. Kind A beginnt und beschreibt 3 Zerlegungen ohne zu zeigen. Kind B malt die Zerlegungen. Tauscht dann die Rollen.

A: 
B: 



B: 
A: 

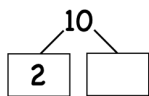


👉 **Aufgabe 3** Der Punktestreifen wurde in zwei Teile geschnitten. Welche Teile passen zum Punktestreifen? Kreuze an.

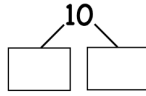


👉 **Aufgabe 4** Emma hat einen Teil ihres Zehnerstreifens mit einem Papier verdeckt. Wie viele Punkte sind unter dem Papier? Schreibe die Zerlegungen auf.

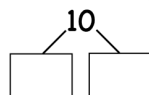
a) 



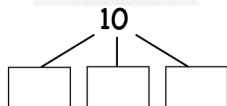
b) 



c) 



d) 



Mengen - Lösungsblatt


Lösung 1

Individuelle Lösungen. Vergleicht zu zweit.

Lösung 2

Individuelle Lösungen. Korrigiert euch gegenseitig.

Lösung 3



Lösung 4

