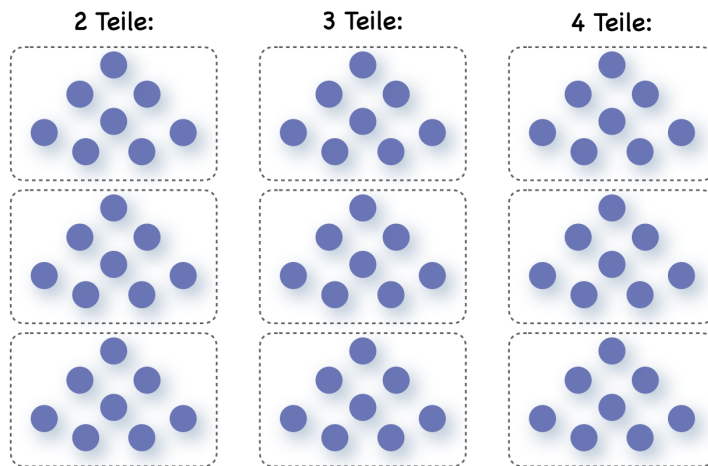
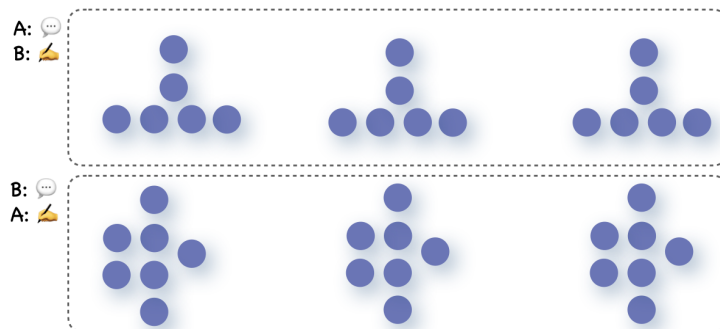


## Mengen

**Aufgabe 1** Zerlege in Teile. Finde jeweils 3 Möglichkeiten.



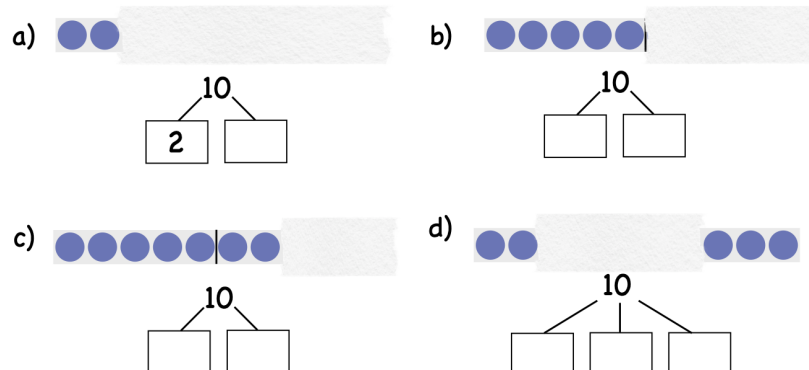
**Aufgabe 2** Arbeitet zu zweit. Kind A beginnt und beschreibt 3 Zerlegungen ohne zu zeigen. Kind B malt die Zerlegungen. Tauscht dann die Rollen.



**Aufgabe 3** Der Punktestreifen wurde in zwei Teile geschnitten. Welche Teile passen zum Punktestreifen? Kreuze an.



**Aufgabe 4** Emma hat einen Teil ihres Zehnerstreifens mit einem Papier verdeckt. Wie viele Punkte sind unter dem Papier? Schreibe die Zerlegungen auf.



## Mengen - Lösungsblatt

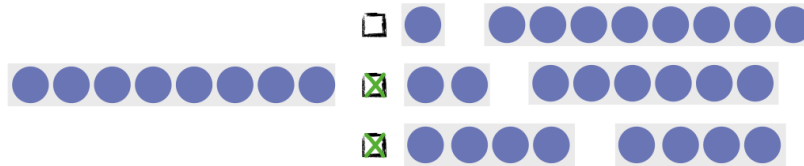
### Lösung 1

Individuelle Lösungen. Vergleicht zu zweit.

### Lösung 2

Individuelle Lösungen. Korrigiert euch gegenseitig.

### Lösung 3



### Lösung 4

