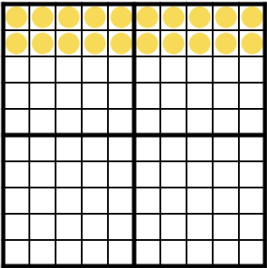


## Rechnen im Hunderterfeld

**Aufgabe 1** Vervollständige das Hunderterfeld, damit es zur Aufgabe passt. Berechne die Summe bzw. die Differenz.

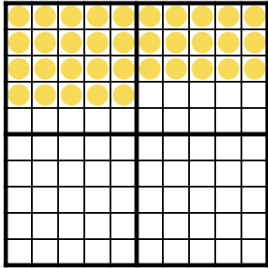
a)



**20** + **15**

Wert der Summe

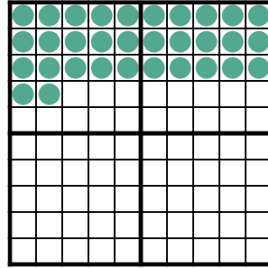
b)



**35** + **17**

Wert der Summe

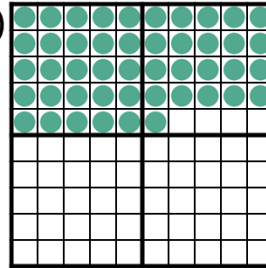
c)



**32** - **12**

Wert der Differenz

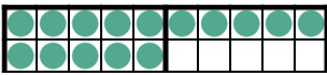
d)

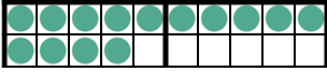


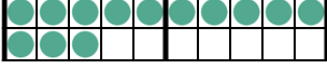
**46** - **15**


Wert der Differenz


**Aufgabe 2** Finde passende Aufgaben!


a)  \_\_\_\_\_

b)  \_\_\_\_\_

c)  \_\_\_\_\_

d)  \_\_\_\_\_

e)  \_\_\_\_\_

f)  \_\_\_\_\_

10 + 4

6 + 6

10 + 2

10 + 5

7 + 7

10 + 6

5 + 5 + 4

5 + 5 + 2

20 - 5

8 + 5

5 + 5 + 5

8 + 8

20 - 7

9 + 5

20 - 4

**Aufgabe 3** Arbeitet zu zweit. Kind A sucht eine Aufgabe aus und beschreibt, wie es die Aufgabe im Hunderterfeld darstellt. Kind B nennt die beschriebene Aufgabe und Kind A kontrolliert. Tauscht dann die Rollen.

25 + 10

25 - 10

15 + 10

15 - 10

35 - 5

16 + 14

16 - 14

35 - 10

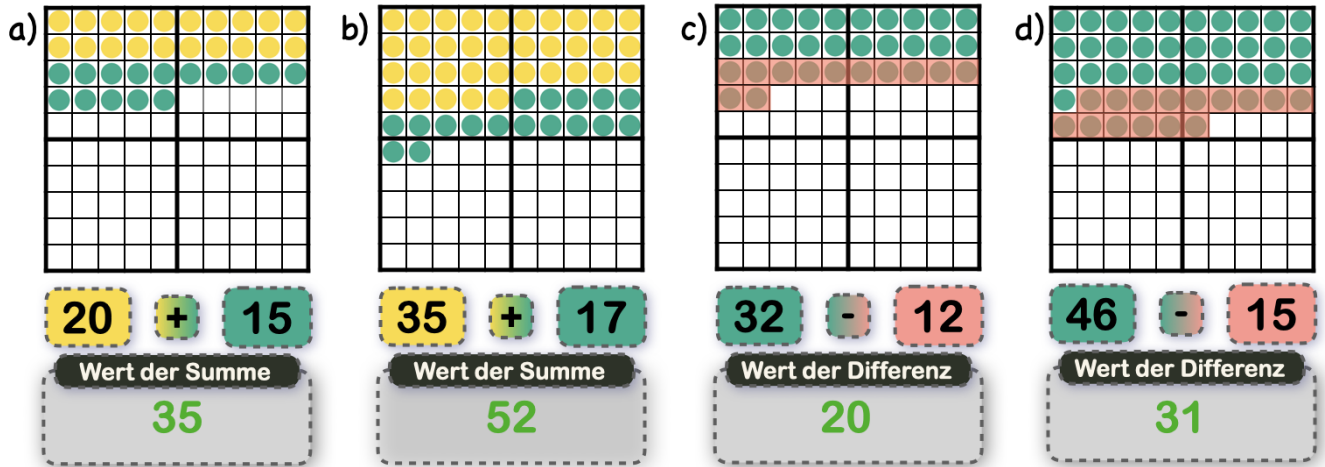
30 - 10 - 4

14 + 6 + 10

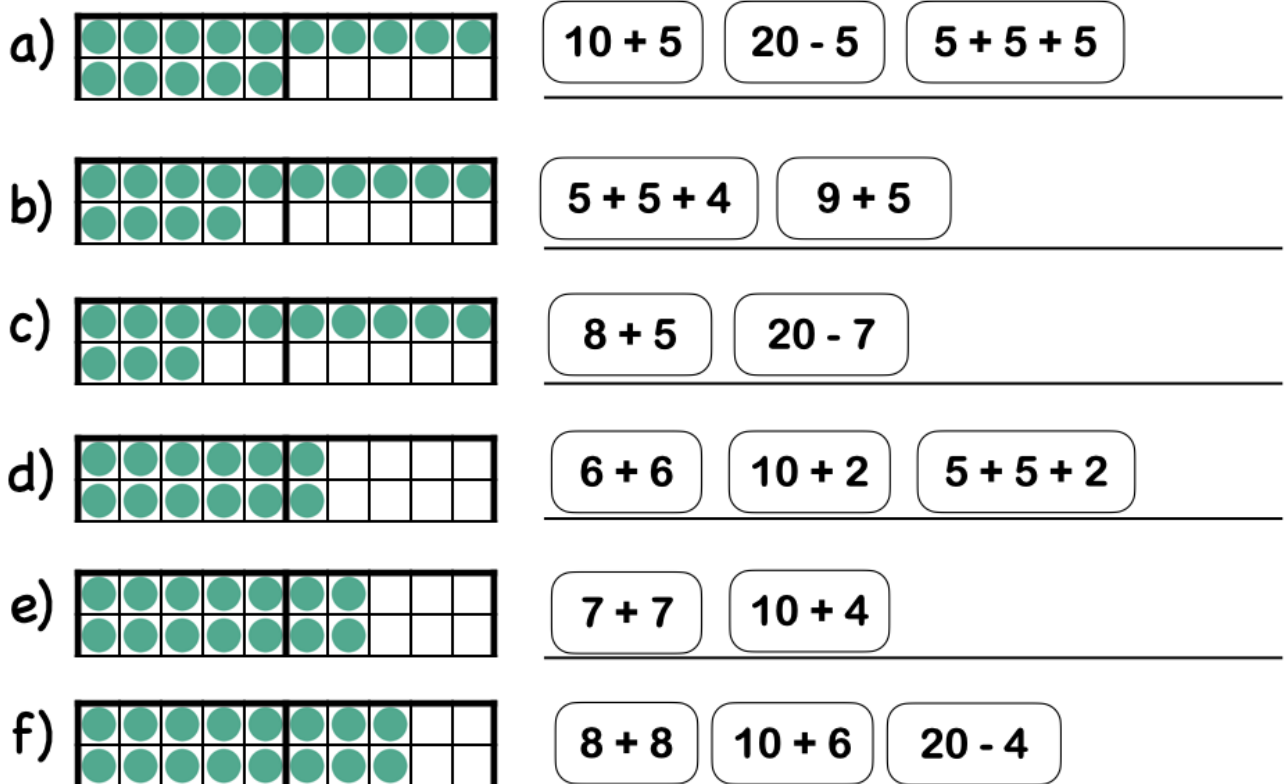
40 - 5

## Rechnen im Hunderterfeld - Lösungsblatt

### Lösung 1



### Lösung 2



### Lösung 3

Individuelle Lösungen.