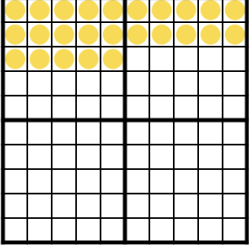


Rechnen im Hunderterfeld

Aufgabe 1 Vervollständige das Hunderterfeld, damit es zur Aufgabe passt. Berechne die Summe bzw. die Differenz.

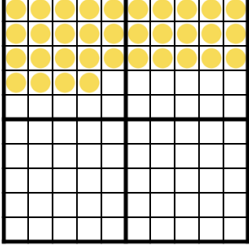
a)



25 + **15**

Wert der Summe

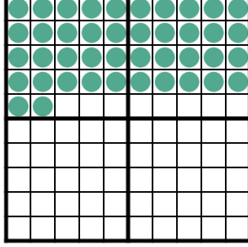
b)



34 + **17**

Wert der Summe

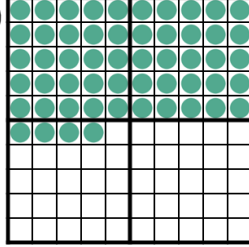
c)



42 - **22**

Wert der Differenz

d)




54 - **20**

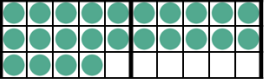
Wert der Differenz

Aufgabe 2 Finde passende Aufgaben!

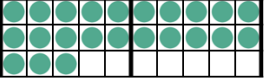
a)




b)




c)




d)



e)



f)



6 + 6 + 6 + 6

20 + 4

30 - 7

20 + 3

14 + 10

7 + 7 + 7 + 7

13 + 10

10 + 10 + 5

40 - 12

20 + 12

20 + 5

20 + 4

20 + 8

10 + 10 + 4

8 + 8 + 8 + 8

Aufgabe 3 Arbeitet zu zweit. Kind A sucht eine Aufgabe aus und beschreibt, wie es die Aufgabe im Hunderterfeld darstellt. Kind B nennt die beschriebene Aufgabe und Kind A kontrolliert. Tauscht dann die Rollen.

25 + 10

25 - 10

15 + 10

15 - 10

35 - 5

16 + 14

16 - 14

35 - 10

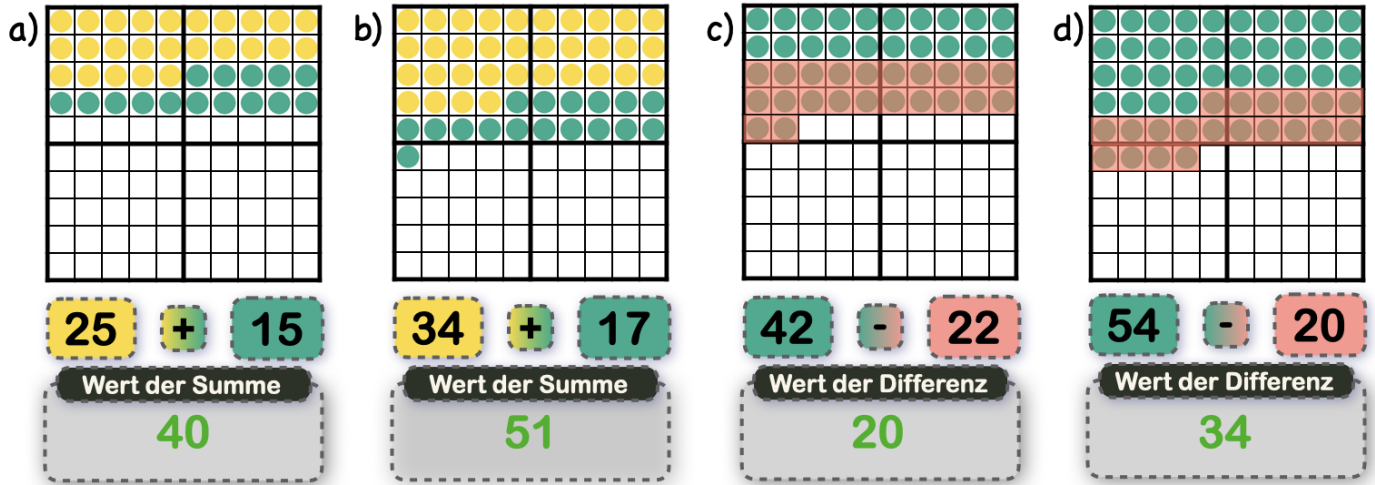
30 - 10 - 4

14 + 6 + 10

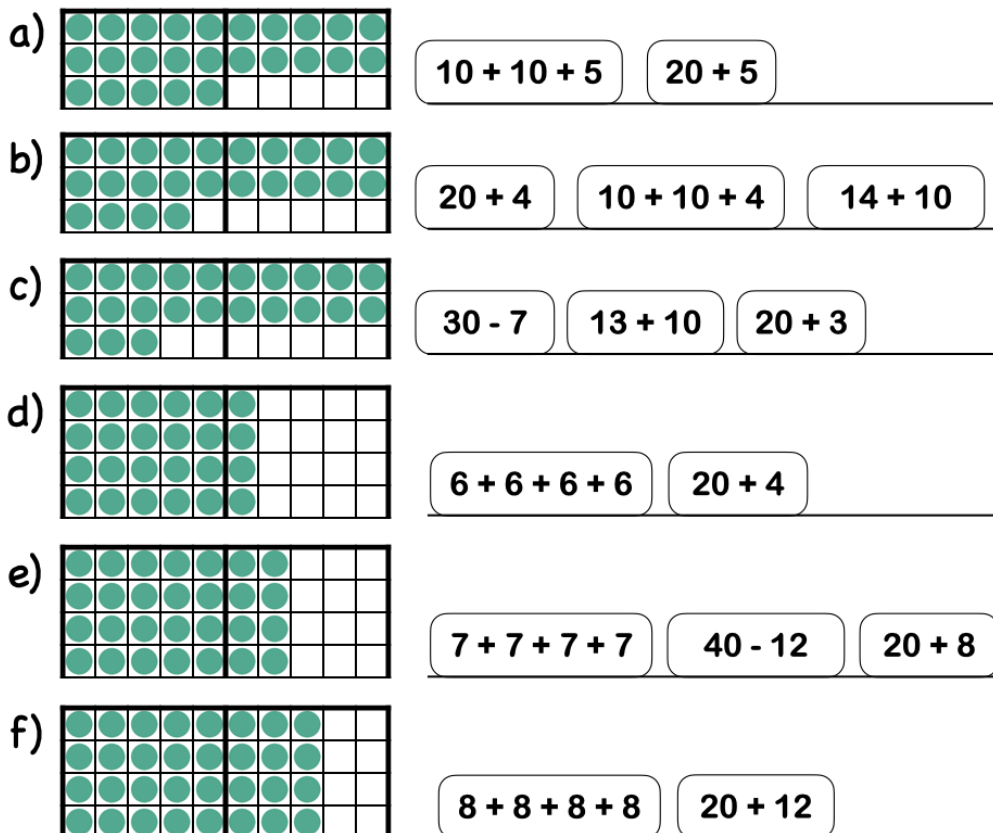
40 - 5

Hunderterfeld - Lösungsblatt

Lösung 1



Lösung 2



Lösung 3

Individuelle Lösungen.