






Geld

Aufgabe 1 Wie kannst du den Betrag bezahlen? Male Münzen und Scheine wie im Beispiel.

| | | | | |
|--|--|--|--|---|
|  5,40 € <div>5 €</div> <div>20 ct</div> <div>20 ct</div> |  9,90 € |  0,79 € |  7,99 € |  79,09 € |
|--|--|--|--|---|

Aufgabe 2 Finde verschiedene Möglichkeiten, um 2,50 € zu legen.
Du darfst die folgenden Münzen so oft du möchtest benutzen:






Immer
2,50 €



Dokumentiere deine Lösungen.

Geld - Lösungsblatt

Lösung 1 Hier gibt es natürlich verschiedene Möglichkeiten.
Hier findest du jeweils eine:

| | | | | |
|--|--|--|---|--|
|  <p>5,40 €</p> <p>5 €</p> <p>20 ct</p> |  <p>9,90 €</p> <p>5 €</p> <p>2 €</p> <p>2 €</p> <p>50 ct</p> <p>20 ct</p> <p>20 ct</p> |  <p>0,79 €</p> <p>50 ct</p> <p>20 ct</p> <p>5 ct</p> <p>2 ct</p> <p>2 ct</p> |  <p>7,99 €</p> <p>5 €</p> <p>2 €</p> <p>50 ct</p> <p>20 ct</p> <p>20 ct</p> <p>5 ct</p> <p>2 ct</p> <p>2 ct</p> |  <p>79,09 €</p> <p>50 €</p> <p>20 €</p> <p>5 €</p> <p>2 €</p> <p>2 €</p> <p>5 ct</p> <p>2 ct</p> <p>2 ct</p> |
|--|--|--|---|--|

Lösung 2

Hier gibt es auch sehr viele verschiedene Lösungen!
Vergleicht zu zweit und sortiert eure Lösungen.
Findet ihr noch weitere Möglichkeiten?