


Geometrische Figuren

Aufgabe 1 Schaue dich in deinem Klassenraum um und fülle die Tabelle.
Was sieht aus wie ... ?

... ein Dreieck	... ein Viereck	... ein Kreis

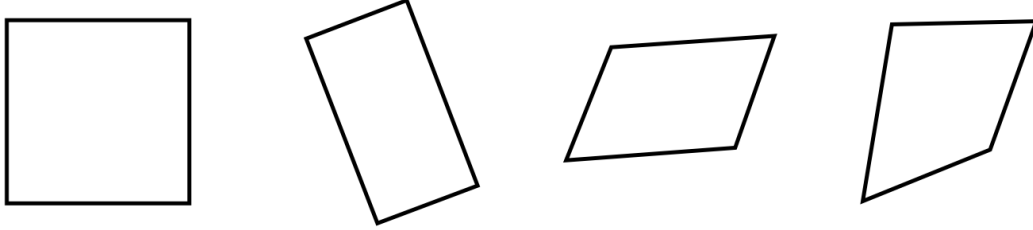
Aufgabe 2

Male aus: Dreiecke: rot, Vierecke: blau, Kreise: gelb.



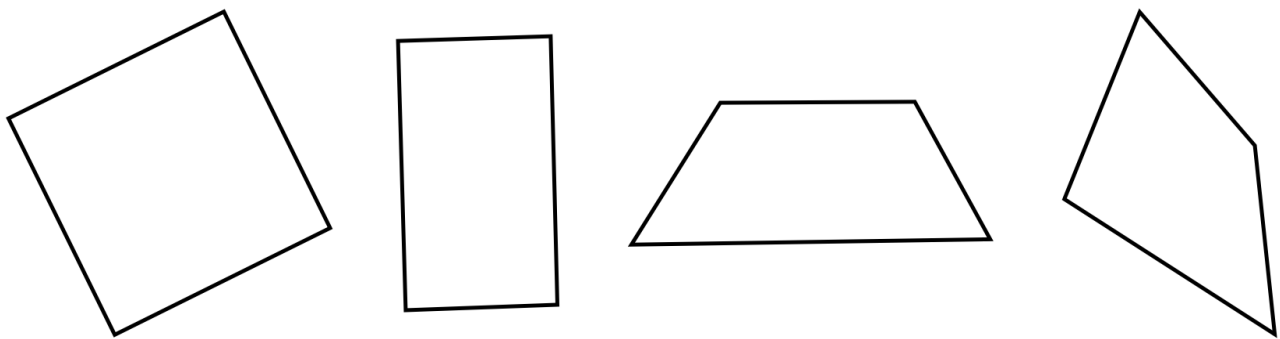
Aufgabe 3

a) Zerlege jede Figur in zwei Dreiecke.



Erkläre, wie du vorgegangen bist:

b) Zerlege jede Figur in **ein Viereck** und **vier Dreiecke**.

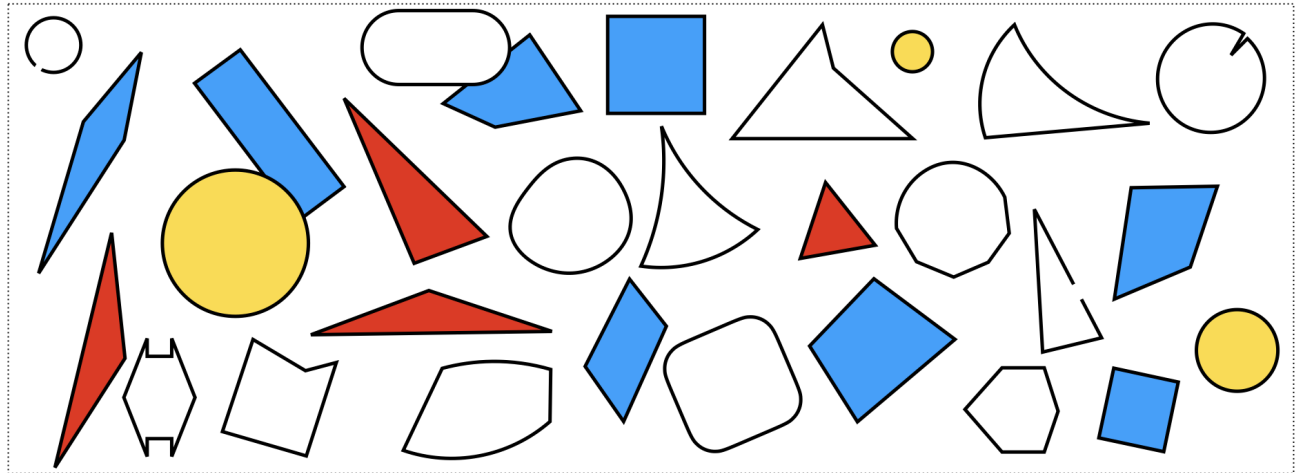


Erkläre, wie du vorgegangen bist:

Geometrische Figuren - Lösungsblatt

✓ Lösung 1 Individuelle Lösungen. Vergleicht zu zweit.

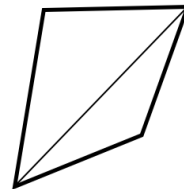
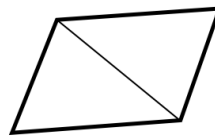
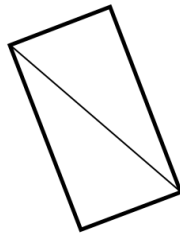
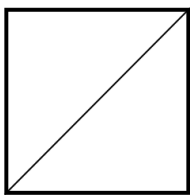
✓ Lösung 2



✓ Lösung 3 Hier gibt es verschiedene Lösungen. Vergleicht zu zweit.

Mögliche Lösungen sind:

a) Hier verbindet man immer zwei Ecken, die gegenüber liegen.



b)

