

## Verteilen

- ✓ **Aufgabe 1** a) Nimm dir 24 Plättchen (oder Steine oder ...) und 4 Schalen (oder Becher oder ...). Verteile gerecht!  
b) Zeichne, wie du verteilt hast.

c) Erkläre, wie du vorgegangen bist.

---



---




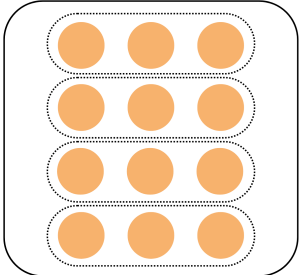
---

### ✓ Aufgabe 2


Welche Darstellung passt nicht? Streiche durch und erkläre, warum die Darstellung nicht passt.

a)



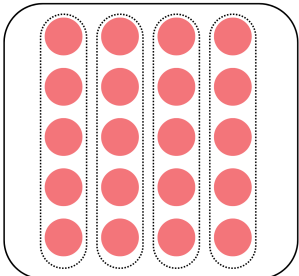



4 Dreier

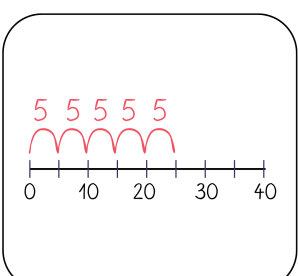


b)

Luis hat 25 Kugeln.  
Er verteilt sie in  
gleich große  
Gruppen.  
In jeder Gruppe  
sind 5 Kugeln.







---



---






---

### Aufgabe 3

Schreibe zu jedem Bild eine passende Rechengeschichte.

a)





---

---

---

---

b)



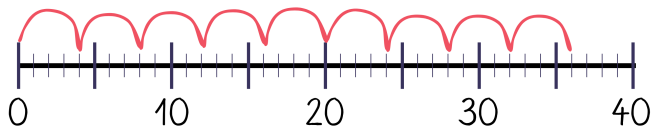

---

---

---

---

c)




---

---

---

---

## Verteilen - Lösungsblatt

✓ **Lösung 1** In jeder Schale sollten am Ende 6 Plättchen liegen.

✓ **Lösung 2**

a)

4 Dreier

b)

Luis hat 25 Kugeln.  
Er verteilt sie in  
gleich große  
Gruppen.  
In jeder Gruppe  
sind 5 Kugeln.

a) Das Bild mit den Bonbons passt nicht, weil die 4 Teile nicht alle gleich groß sind. Oben rechts sind nämlich 4 Bonbons und nicht 3 zu sehen.

b) Das Punktebild passt nicht. Die Punkte wurden zwar in Fünfer-Bündel unterteilt, aber es müssten insgesamt 25 Punkte sein, damit das Bild zu den anderen passt. Es sind jedoch nur 20 Punkte.

✓ **Lösung 3**

Individuelle Lösungen. Vergleicht zu zweit.