

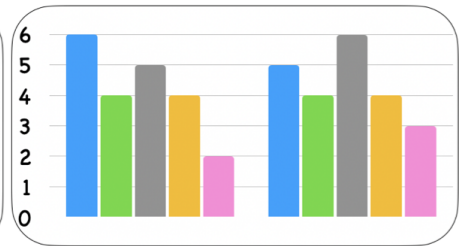
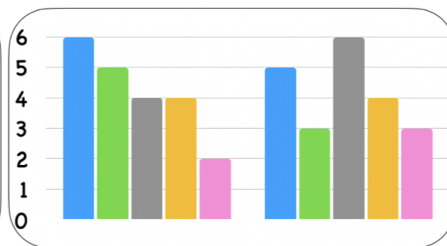
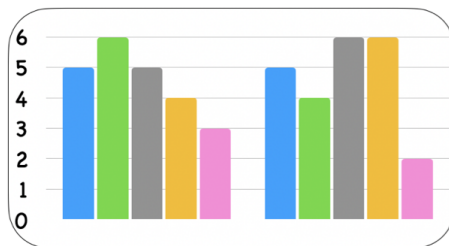
Daten

Aufgabe 1 Welche Tabelle passt zu welchem Diagramm? Verbinde!

Lieblingssessen	4a	4b
Pizza	6	5
Pommes	5	3
Nudeln	4	6
Pfannkuchen	4	4
Schnitzel	2	3

Lieblingstier	4b	4c
Hund	6	5
Katze	4	4
Pferd	5	7
Pinguin	4	4
Affe	2	3

Lieblingsgemüse	4a	4c
Tomate	5	5
Gurke	6	4
Mais	5	6
Brokkoli	4	6
Karotte	3	2



Aufgabe 2 In der Tabelle siehst du die Hobbies der Klassen 4a und 4b.
Fülle die Lücken im Text und schreibe 3 weitere Aussagen zur Tabelle..

Hobbies	4a	4b
Fußball	7	5
Lesen	5	4
Handball	6	5
Turnen	2	6
Reiten	4	2

In der _____ lesen 5 Kinder gerne.

In der _____ haben die wenigsten Kinder Reiten als Hobby.

In der _____ ist Turnen beliebter als in der _____.

In der 4b mögen gleich viele Kinder _____ und _____.

In der 4a ist _____ am beliebtesten, in der 4b ist es _____.

✓ **Aufgabe 3** (Gruppenarbeit)

- a) Macht in eurer Klasse eine Umfrage zu einem Thema eurer Wahl (zum Beispiel Haustiere, Lieblingsessen, ...).
- b) Erstellt eine Tabelle und zeichnet ein passendes Diagramm.
- c) Präsentiert dann eure Ergebnisse in der Klasse.

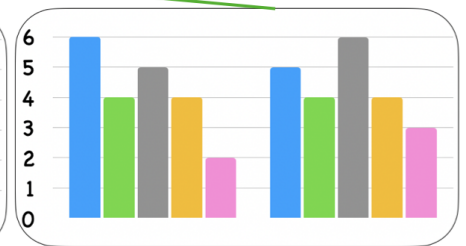
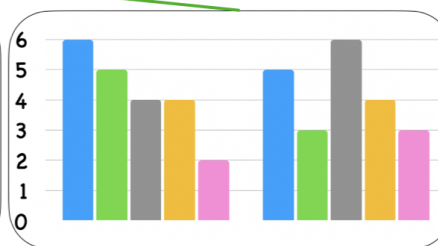
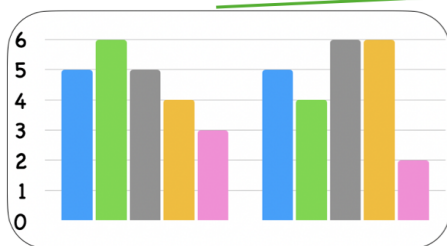
Daten - Lösungsblatt

✓ **Lösung 1** Welche Tabelle passt zu welchem Diagramm? Verbinde!

Lieblingssessen	4a	4b
Pizza	6	5
Pommes	5	3
Nudeln	4	6
Pfannkuchen	4	4
Schnitzel	2	3

Lieblingstier	4b	4c
Hund	6	5
Katze	4	4
Pferd	5	7
Pinguin	4	4
Affe	2	3

Lieblingsgemüse	4a	4c
Tomate	5	5
Gurke	6	4
Mais	5	6
Brokkoli	4	6
Karotte	3	2



✓ **Lösung 2** In der Tabelle siehst du die Hobbies der Klassen 4a und 4b. Zeichne in deinem Heft ein Diagramm, das zur Tabelle passt.

In der 4a lesen 5 Kinder gerne.

In der 4b haben die wenigsten Kinder Reiten als Hobby.

In der 4b ist Turnen beliebter als in der 4a.

In der 4b mögen gleich viele Kinder Fußball und Handball.

In der 4a ist Fußball am beliebtesten, in der 4b ist es Turnen.

✓ **Lösung 3** Individuelle Lösungen